

All India Trade Test - 2024 for Craftsmen Training Scheme (CTS)
Trade Name: Solar Technician (Electrical) Year 1
Year: 1st Year


Exam Date :
Exam Time :

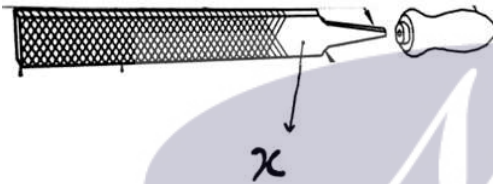
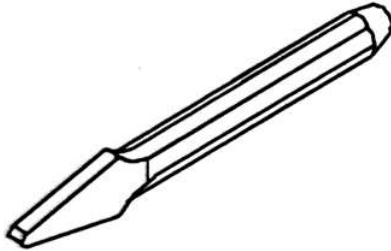
- Note:**
1. Tick the correct option out of four alternatives provided
2. All questions carry equal marks (2 Marks each)
3. There is no negative marking

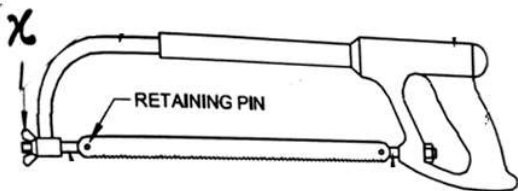
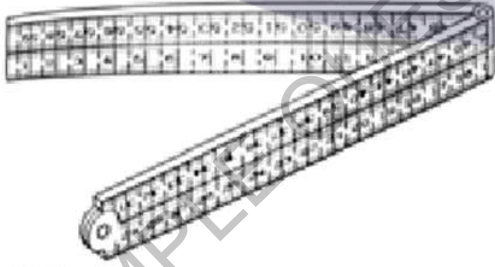
Sr. No.	Client Question ID	Question Body and Alternatives	Marks	Negative Marks
Trade Theory				
1	1	<p>What is the expansion of BIS? BIS का विस्तार क्या है?</p> <p>A1 : Bureau of Indian Standard Bureau of Indian Standard</p> <p>A2 : Bureau of International Standard Bureau of International Standard</p> <p>A3 : Bureau of Independent Standard Bureau of Independent Standard</p> <p>A4 : Bureau of Industrial Standard Bureau of Industrial Standard</p>	2.0	0.00
Trade Theory				
2	2	<p>What is the expansion of ISO? ISO का विस्तार क्या है?</p> <p>A1 : Indian Standards Organization Indian Standards Organization</p> <p>A2 : International Standards Organization International Standards Organization</p> <p>A3 : Industrial Standards Organization Industrial Standards Organization</p> <p>A4 : Important Standards Organization Important Standards Organization</p>	2.0	0.00
Trade Theory				
3	3	<p>What is the cause of accident? दुर्घटना का कारण क्या है?</p> <p>A1 : Awareness of danger खतरे के प्रति जागरूकता</p> <p>A2 : Understanding of proper safety procedures उचित सुरक्षा प्रक्रियाओं की समझ</p> <p>A3 : Negligence लापरवाही</p> <p>A4 : Proper use of tools साधनों का उचित उपयोग</p>	2.0	0.00
Trade Theory				
4	4	<p>What is the meaning of prohibition signs?</p>	2.0	0.00

		<p>निषेध संकेतो का अर्थ क्या है?</p> <p>A1 Shows what must be done : दिखता है कि क्या करना चाहिए</p> <p>A2 Warns of hazard or danger : खतरे की चेतावनी दी</p> <p>A3 Indicate or gives information of safety provision : इंगित करें, या सुरक्षा प्रावधान की जानकारी दे</p> <p>A4 Shows it must not be done : दिखता है कि ऐसा नहीं किया जाना चाहिए</p>		
Trade Theory				
5	5	<p>Which type PPE is used for Body protection? पी पी ई किस प्रकार शरीर की सुरक्षा के लिए उपयोग किया जाता है?</p> <p>A1 Face shield : मुखड़ा कवच</p> <p>A2 Nose mask : नाक का नकाब</p> <p>A3 Leather aprons : चमड़े का एप्रन</p> <p>A4 Goggles : काले चश्मे</p>	2.0	0.00
Trade Theory				
6	6	<p>Which type of personal protective equipment is used for Electric Shock? किस प्रकार के व्यक्तिगत सुरक्षा उपकरण का उपयोग बिजली के झटके के लिए किया जाता है?</p> <p>A1 Helmet : हेलमेट</p> <p>A2 Hand gloves : हाथ के दस्ताने</p> <p>A3 Hand shield : हाथ की ढाल</p> <p>A4 Ear muff : कान का गूदा (मफ़)</p>	2.0	0.00
Trade Theory				
7	7	<p>What is the psychological hazard? मनोवैज्ञानिक खतरा क्या है?</p> <p>A1 Wrong attitude : गलत रवैया</p> <p>A2 Old age : बुढ़ापा</p> <p>A3 Explosive : विस्फोटक</p> <p>A4 Noise : शोर</p>	2.0	0.00
Trade Theory				
8	8	<p>What is ABC stands for first aid?</p>	2.0	0.00

		<p>प्राथमिक चिकित्सा के लिए ABC क्या है?</p> <p>A1 : Auto, Breathing, Circulation Auto, Breathing, Circulation</p> <p>A2 : Airway, Blood, Circulation Airway, Blood, Circulation</p> <p>A3 : Airway, Breathing, Circulation Airway, Breathing, Circulation</p> <p>A4 : Airway, Blood, Circuit Airway, Blood, Circuit</p>		
Trade Theory				
9	9	<p>What is the word for removing the fuel from the fire? आग से ईंधन निकालने के लिए शब्द क्या है?</p> <p>A1 : Starving स्टारविंग (भूख)</p> <p>A2 : Smothering स्मूथविंग</p> <p>A3 : Circulating घूम</p> <p>A4 : Cooling ठंडा</p>	2.0	0.00
Trade Theory				
10	10	<p>Which type of fire extinguishers are used for class D fire? क्लास डी फायर के लिए किस प्रकार के अग्निशामक का उपयोग किया जाता है?</p> <p>A1 : Dry powder fire extinguishers सुखा पाउडर</p> <p>A2 : Foam fire extinguishers फोम</p> <p>A3 : Water filled fire extinguishers वाटर फील्ड</p> <p>A4 : Stored pressure fire extinguishers स्टोरड प्रेशर</p>	2.0	0.00
Trade Theory				
11	11	<p>Which class of fire is in Liquified gas? अग्नि का कौन सा वर्ग तरलीकृत गैस है?</p> <p>A1 : Class A क्लास A</p> <p>A2 : Class B क्लास B</p> <p>A3 : Class C क्लास C</p> <p>A4 : Class D क्लास D</p>	2.0	0.00
Trade Theory				
12	12	<p>What is the letters PASS stands for in the use of fire extinguishers?</p>	2.0	0.00

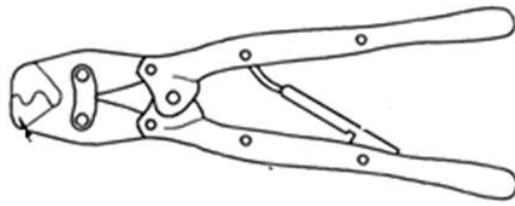
		<p>अग्निशामक यंत्र के उपयोग के लिए लेटर पास क्या है?</p> <p>A1 : Push, Airway, Sweep, squeeze धक्का दें, वायुमार्ग झाड़ू लगा दो निचोड़</p> <p>A2 : Pull, Aim, Squeeze, Sweep खींचें, लक्ष्य निचोड़, झाड़ू लगा दो</p> <p>A3 : Push, Aim, Sweep, Squeeze धक्का दे, लक्ष्य निचोड़</p> <p>A4 : Pull, Airway, Sweep, Squeeze खींचे, एयरवे झाड़ू लगा दे निचोड़</p>		
Trade Theory				
13	13	<p>What is the distance the tip to the heel of a file?</p> <p>फाइल की एंडी तक की दूरी क्या है?</p> <p>A1 : Shape आकार</p> <p>A2 : Length लम्बाई</p> <p>A3 : Height ऊचाई</p> <p>A4 : Breadth चौड़ाई</p>	2.0	0.00
Trade Theory				
14	14	<p>What is the angle of 'X' shown in figure?</p> <p>चित्र में दिखाए गए 'X' का कोण है?</p>  <p>A1 : 50° to 60° 50° to 60°</p> <p>A2 : 60° 60°</p> <p>A3 : 60° to 70° 60° to 70°</p> <p>A4 : 70° 70°</p>	2.0	0.00
Trade Theory				
15	15	<p>Which type of file is used to file hand materials such as steel, brass, bronze etc?</p> <p>किस प्रकार की फाइल का उपयोग हाथ की सामग्री जैसे स्टील, पीतल, कांस्य आदि को दर्ज करने के लिए किया जाता है?</p> <p>A1 : Single cut सिंगल कट</p> <p>A2 : Double Cut डबल कट</p>	2.0	0.00

		A3 Rasp Cut : रास्प कट A4 Curved Cut : कर्व कट		
Trade Theory				
16	16	Which file is used for biling wood ? फाइलिंग वुड के लिए किस फाइल का प्रयोग किया जाता है? A1 Single cut : सिंगल कट A2 Double Cut : डबल कट A3 Rasp Cut : रास्प कट A4 Curved Cut : कर्व कट	2.0	0.00
Trade Theory				
17	17	What is the name of the part marked as 'X' shown in the figure? चित्र में दिखाए गए भाग का नाम 'X' क्या है?  A1 Heel : हील A2 Shoulder : शोल्डर A3 Face : फेस A4 Edge : एडल(धार)	2.0	0.00
Trade Theory				
18	18	What is the name of the chisel shown in the figure? चित्र में दिखाए गए चीजल का नाम बताए?  A1 Flat chisel : फ्लैट चीजल A2 Half round nose chisel :	2.0	0.00

		<p>हाफ राऊंड नोश चीजल</p> <p>A3 : Diamond point- chisel</p> <p>डायमंड बिंदु चीजल</p> <p>A4 : Cross-cut chisel</p> <p>क्रोइसैन चीजल</p>		
Trade Theory				
19	19	<p>What is the name of the part marked as 'X' in the figure?</p> <p>चित्र में दिखाए पार्ट का नाम बताए जो 'X' मार्क किया गया है?</p>  <p>A1 : Frame</p> <p>फ्रेम</p> <p>A2 : Retaining pin</p> <p>रिटैनिंग पिन</p> <p>A3 : Frame length adjustment</p> <p>फ्रेम लंबाई समायोजन</p> <p>A4 : Wing nut</p> <p>विंग नट</p>	2.0	0.00
Trade Theory				
20	20	<p>Which type of tool is shown in figure?</p> <p>किस टाइप का टूल चित्र में दिखाया गया है?</p>  <p>A1 : Wooden folding rule</p> <p>लकड़ी की तह नियम</p> <p>A2 : Steel rule</p> <p>स्टील रूल</p> <p>A3 : Marking gauge</p> <p>मार्किंग गेज</p> <p>A4 : Try square</p> <p>ट्राईस्कार</p>	2.0	0.00
Trade Theory				
21	21	<p>What is the range of high voltage?</p> <p>उच्च वोल्टेज की सीमा क्या है?</p> <p>A1 : Above 33000V</p> <p>उपरा 33000V</p>	2.0	0.00

		A2 : 650-33000V 650-33000V A3 : 250-650V 250-650V A4 : 0-250V 0-250V		
Trade Theory				
22	22	What is the rating faction of coarse excess current protections? मोटे करंट सुरक्षा का रेटिंग फैक्टर क्या है? A1 0.5 : 0.5 A2 0.81 : 0.81 A3 1 : 1 A4 1.23 : 1.23	2.0	0.00
Trade Theory				
23	23	What is the accuracy of a metric outside micrometer? माइक्रोमीटर के बाहर मीट्रिक की सटीकता क्या है? A1 $\pm 0.1\text{mm}$: $\pm 0.1\text{mm}$ A2 $\pm 0.01\text{mm}$: $\pm 0.01\text{mm}$ A3 $\pm 0.001\text{mm}$: $\pm 0.001\text{mm}$ A4 $\pm 0.5\text{mm}$: $\pm 0.5\text{mm}$	2.0	0.00
Trade Theory				
24	24	What is the rating faction of close excess current protection? बंद करंट सुरक्षा का रेटिंग फैक्टर क्या है? A1 0.5 : 0.5 A2 0.81 : 0.81 A3 1 : 1 A4 1.23 : 1.23	2.0	0.00
Trade Theory				
25	25	What is the working temperature of Tinman's solder? टिन मैन सोल्डर का कार्य तापमान क्या है? A1 200°C : 200°C A2 185°C : 185°C	2.0	0.00

		185°C A3 : 219°C 219°C A4 : 237°C 237°C		
Trade Theory				
26	26	Which conduction has more diameter? किस कंडक्टर का व्यास अधिक है? A1 : 10 SWG 10 SWG A2 : 15 SWG 15 SWG A3 : 20 SWG 20 SWG A4 : 22 SWG 22 SWG	2.0	0.00
Trade Theory				
27	27	What is the composition of electricians solder? इलेक्ट्रिक सोल्डर की संरचना क्या है? A1 : Tin 50% and lead 50% टीन 50% और की संरचना लैड 50% A2 : Tin 60% and lead 40% टीन 60% और की संरचना लैड 40% A3 : Tin 90% and lead 10% टीन 90% और की संरचना लैड 10% A4 : Tin 35% and lead 65% टीन 35% और की संरचना लैड 65%	2.0	0.00
Trade Theory				
28	28	In a 3 core cable which colour wire is connected to earth terminal? एक 3 कोर केबल में जो रंग तार पृथ्वी टर्मिनल से जुड़ा है ? A1 : Red लाल A2 : Yellow/green पीला/हरा A3 : Black/blue काला/नीला A4 : No Colour कोई रंग नहीं जुड़ा है	2.0	0.00
Trade Theory				
29	29	What is the name of the tool shown in figure? चित्र में दिखाए गए टूल का नाम बताएं ?	2.0	0.00



A1
: Ratchet brace

रेचट बरेस

A2
: Combination pliers

कम्बिनेशन प्लायर

A3
: Crimping tool

क्रीमपींग टूल

A4
: Wire stripper

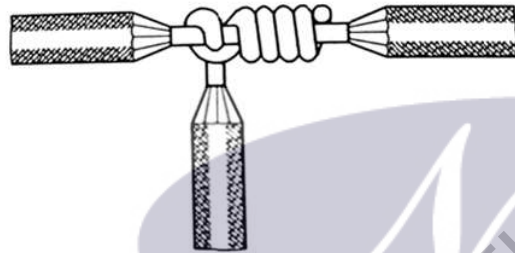
वायर स्ट्रीपर

Trade Theory

30 30

What is the name of the joint shown in figure?

चित्र में दिखाए गए जॉइंट का नाम बताएं ?



A1
: Aerial tap joint

एयरल टैप जॉइंट

A2
: Knotted tap joint

नॉटड टैप जॉइंट

A3
: Duplex cross tap joint

डुप्लेक्स क्रॉस टैप जॉइंट

A4
: Double cross tap joint

डबल क्रॉस टैप जॉइंट

Trade Theory

31 31

What is the ratio of voltage to current in an electric circuit?

एक परिभाषित परिपथ में वोल्टेज का करंट कितना होता है?

A1
: Voltage (V)

वोल्टेज (V)

A2
: Current (C)

करंट (C)

A3
: Resistance (R)

रेजिस्टेंस (R)

A4
: Power (P)

पावर (P)

Trade Theory

32 32

Which law states that $V/I=R$?

2.0

0.00

2.0

0.00

2.0

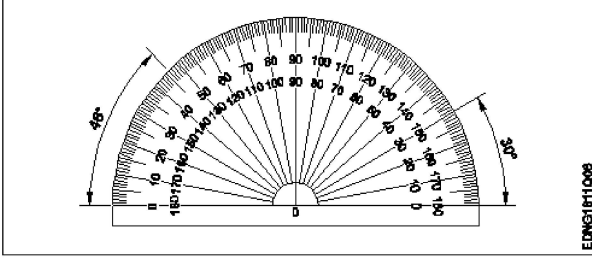
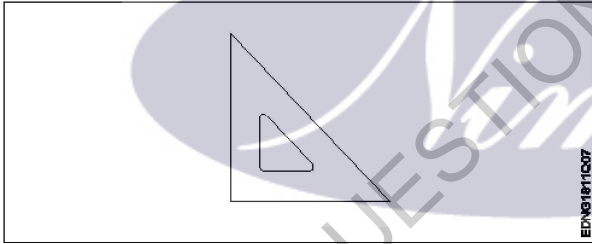
0.00

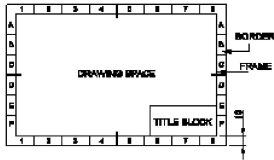
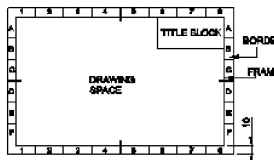
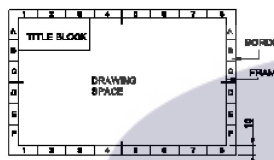
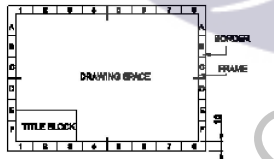
		<p>किस (नियम) कानून में कहा गया है कि $V/I=R$?</p> <p>A1 : Laws of resistance प्रतिरोध के नियम</p> <p>A2 : Kirchhoff's law किरचाफ नियम</p> <p>A3 : Faraday's law फैराडे कानून (नियम)</p> <p>A4 : Ohm's law ओम नियम</p>		
Trade Theory				
33	33	<p>What is the range of low resistance? कम प्रतिरोध की सीमा क्या है?</p> <p>A1 : One ohm and below one ohm One ohm and below one ohm</p> <p>A2 : Above one ohm upto 100 Ω Above one ohm upto 100 Ω</p> <p>A3 : Above 100 Ω Above 100 Ω</p> <p>A4 : Above one mega ohm Above one mega ohm</p>	2.0	0.00
Trade Theory				
34	34	<p>How to identify the ohmmeter is shunt type? ओममीटर की पहचान अलग प्रकार से कैसे करें शंट प्रकार ?</p> <p>A1 : The left side of the dial is marked as infinity डायल के बाई अनंत के रूप में चिह्नित किया गया है</p> <p>A2 : The middle of the dial is marked as infinity डायल के बीच में अनन्त के रूप में चिह्नित किया जाता है</p> <p>A3 : The right side of the dial is marked as infinity डायल के दाई और अनंत के रूप में किया जाता है</p> <p>A4 : They have no marking as infinity उनके पास अनंत के रूप में कोई अंकन नहीं है</p>	2.0	0.00
Trade Theory				
35	35	<p>How to identify the ohmmeter is series type? ओममीटर की पहचान कैसे करे सीरीज टाइप?</p> <p>A1 : The left side of the dial is marked as infinity डायल के बाई अनंत के रूप में चिह्नित किया गया है</p> <p>A2 : The middle of the dial is marked as infinity डायल के बीच में अनन्त के रूप में चिह्नित किया जाता है</p> <p>A3 : The right side of the dial is marked as infinity डायल के दाई और अनंत के रूप में किया जाता है</p> <p>A4 : They have no marking as infinity उनके पास अनंत के रूप में कोई अंकन नहीं है</p>	2.0	0.00
Trade Theory				
36	36	At each junction of currents, the sum of the incoming currents is equal to the sum of the outgoing current. What is the law?	2.0	0.00

		<p>धाराओं के प्रत्येक जंक्शन पर आने वाली धाराओं का योग आउटगोइंग धाराओं के योग के बराबर है नियम क्या है?</p> <p>A1 Ohm's law : ओम नियम</p> <p>A2 Kirchhoff's law : किरचाफ नियम</p> <p>A3 Laws of resistance : प्रतिरोधक नियम</p> <p>A4 Faradays law : फैराडेनियम</p>		
Trade Theory				
37	37	<p>In which law state that $\sum V=0$? किस नियम में $\sum V=0$ है?</p> <p>A1 Ohm's law : ओम नियम</p> <p>A2 Laws of resistance : प्रतिरोधक नियम</p> <p>A3 Kirchhoff's law : किरचाफ नियम</p> <p>A4 Faradays law : फैराडेनियम</p>	2.0	0.00
Trade Theory				
38	38	<p>What is the formula for finding the total resistance (R) of equal resistors in parallel? समानांतर में समान प्रतिरोधों के कुल प्रतिरोध को खोजने का सूत्र क्या है?</p> <p>A1 $1/R=1/R_1 + 1/R_2$: $1/R=1/R_1 + 1/R_2$</p> <p>A2 $R = r/N$: $R = r/N$</p> <p>A3 $R = R_1 + R_2$: $R = R_1 + R_2$</p> <p>A4 $R = N/r$: $R = N/r$</p>	2.0	0.00
Workshop Calculation Science				
39	39	<p>What are the two classifications of system of units? इकाइयों की प्रणाली के दो प्रकार कौनसे हैं?</p> <p>A1 British and Metric : ब्रिटिश और मीट्रिक</p> <p>A2 Gravitational and non-gravitational : गुरुत्वाकर्षण और गैर-गुरुत्वाकर्षण</p> <p>A3 Fundamental and derived : मौलिक और व्युत्पन्न</p> <p>A4 Metric and International : मेट्रिक और इंटरनेशनल</p>	2.0	0.00
Workshop Calculation Science				
40	40	<p>What are fundamental units?</p>	2.0	0.00

		<p>इनमे से मूलभूत इकाइयाँ कोन-कोनसी है?</p> <p>A1 : Length, Mass, Volume लंबाई, द्रव्यमान, आयतन</p> <p>A2 : Length, Mass, Time लंबाई, द्रव्यमान, समय</p> <p>A3 : Length, Mass, Area लंबाई, द्रव्यमान, क्षेत्रफल</p> <p>A4 : Length, Pressure, Volume लंबाई, दाब, आयतन</p>		
Workshop Calculation Science				
41	41	<p>What denotes letter 'M' in MKS system? MKS प्रणाली में 'M' अक्षर क्या दर्शाता है?</p> <p>A1 : Mile Mile</p> <p>A2 : Meter Meter</p> <p>A3 : Millimeter Millimeter</p> <p>A4 : Micron Micron</p>	2.0	0.00
Workshop Calculation Science				
42	42	<p>How many millimetres are there in 1 inch? 1 इंच में कितने मिलीमीटर होते हैं?</p> <p>A1 : 2.54 mm 2.54 mm</p> <p>A2 : 25.4 mm 25.4 mm</p> <p>A3 : 24.5 mm 24.5 mm</p> <p>A4 : 2.45 mm 2.45 mm</p>	2.0	0.00
Workshop Calculation Science				
43	43	<p>What is the square root of 529? 529 का वर्गमूल क्या है?</p> <p>A1 : 13 13</p> <p>A2 : 23 23</p> <p>A3 : 33 33</p> <p>A4 : 43 43</p>	2.0	0.00
Workshop Calculation Science				
44	44	<p>Convert 0.456 decimal fraction into percentage? 0.456 दशमलव भिन्न को प्रतिशत में बदलिये?</p>	2.0	0.00

		<p>A1 : 45.6%</p> <p>45.6%</p> <p>A2 : 4.56%</p> <p>4.56%</p> <p>A3 : 0.456%</p> <p>0.456%</p> <p>A4 : 0.0456%</p> <p>0.0456%</p>		
Engineering Drawing				
45	45	<p>Identify the conventional symbol of material?</p> <p>चित्र में दिखाए गए सामग्री के पारंपरिक प्रतीक का पता लगाएं?</p> <div data-bbox="456 575 1044 804" data-label="Image"> </div> <p>A1 : Water पानी</p> <p>A2 : Concrete ठोस</p> <p>A3 : Asbestos ऐस्बेटस</p> <p>A4 : Glass कांच</p>	2.0	0.00
Engineering Drawing				
46	46	<p>Identify the conventional symbol of material?</p> <p>चित्र में दिखाए गए सामग्री के पारंपरिक प्रतीक का पता लगाएं?</p> <div data-bbox="453 1346 1027 1591" data-label="Image"> </div> <p>A1 : Lead लेड</p> <p>A2 : Glass कांच</p> <p>A3 : Wood लकड़ी</p> <p>A4 : Paper कागज़</p>	2.0	0.00

		Engineering Drawing			
47	47	<p>Identify the name of instrument? चित्र में दिखाए गए उपकरणों के नाम की पहचान करें?</p>  <p>A1 Set square : गुनिया</p> <p>A2 Protractor : चांदा</p> <p>A3 French curve : फ्रंसीसी वक्र</p> <p>A4 'T' square : टी स्क्वायर</p>	2.0	0.00	
		Engineering Drawing			
48	48	<p>Identify the name of set square? सेट स्क्वायर का नाम खोजें?</p>  <p>A1 15° set square : 15° सेट स्क्वायर</p> <p>A2 60° set square : 60° सेट स्क्वायर</p> <p>A3 30° set square : 30° सेट स्क्वायर</p> <p>A4 45° set square : 45° सेट स्क्वायर</p>	2.0	0.00	
		Engineering Drawing			
49	49	<p>Compass used to draw for ____. कम्पास का उपयोग ____ को ड्रा करने के लिए किया जाता है.</p> <p>A1 rectangle : आयत</p> <p>A2 square : वर्ग</p> <p>A3 circle : circle</p>	2.0	0.00	

		<p>वृत्त A4 : triangle त्रिकोण</p>		
Engineering Drawing				
50	50	<p>Which title block position is correct as standard practice? एक मानक अभ्यास के रूप में कौन सी शीर्षक ब्लॉक स्थिति सही है?</p> <p>A1 :</p>  <p>A2 :</p>  <p>A3 :</p>  <p>A4 :</p> 	2.0	0.00
Employability Skills				
51	51	<p>To be in a job or work is..... नौकरी या काम में होना है.....</p> <p>A1 : Employ रोजगार</p> <p>A2 : Skill कौशल</p> <p>A3 : Knowledge ज्ञान</p> <p>A4 : Aptitude योग्यता</p>	2.0	0.00
Employability Skills				
52	52	<p>The ability to do is..... करने की क्षमता है।</p> <p>A1 : Knowledge ज्ञान</p>	2.0	0.00

		A2 Experience : अनुभव A3 Skill : कौशल A4 Job : काम		
Employability Skills				
53	53	A person with a growth mindset is always willing to..... एक विकास मानसिकता वाला व्यक्ति हमेशा तैयार रहता है। A1 relax : आराम करने में A2 grow, change, learn : बढ़ो, बदलो, सीखो A3 keep quiet : चुप रहने में A4 become rich : अमीर बनने	2.0	0.00
Employability Skills				
54	54	Jobs that have become outdated in the past 5 years.... नौकरियां जो पिछले 5 वर्षों में पुरानी हो गई हैं। A1 STD booth : STD बूथ A2 ola : ओला A3 uber : उबेर A4 swiggy : Swiggy	2.0	0.00
Employability Skills				
55	55	21st century workplace skills help you to get employed..... 21वीं सदी के कार्यस्थल कौशल आपको रोजगार पाने में मदद करते हैं.....। A1 very difficult : बहुत कठिन A2 even job market keep changing : यहां तक कि जॉब मार्केट भी बदलता रहता है A3 only when market is growing : केवल जब बाजार बढ़ रहा है A4 only with higher qualification : केवल उच्च योग्यता के साथ	2.0	0.00
Employability Skills				
56	56	Ethics means नैतिकता का अर्थ है....। A1 decide what is right and wrong for a human conduct : तय करें कि मानव आचरण के लिए क्या सही है और क्या गलत	2.0	0.00

		A2 : name of a city एक शहर का नाम A3 : employability skills रोज़गार कौशल A4 : not relevant to society समाज से संबंधित नहीं है		
Employability Skills				
57	57	Values are..... मान हैं। A1 : not punctual समयनिष्ठ नहीं A2 : Motivates our attitude and action हमारे दृष्टिकोण और कार्यवाही को प्रेरित करता है A3 : very costly बहुत कीमती A4 : all have same value सभी का मूल्य समान है	2.0	0.00
Employability Skills				
58	58 is a brief statement about purpose and principles of the Constitution.संविधान के उद्देश्य और सिद्धांतों के बारे में संक्षिप्त विवरण है। A1 : Syllabus पाठ्यक्रम A2 : Module मापांक A3 : The Preamble प्रस्तावना A4 : Unit इकाई	2.0	0.00
Employability Skills				
59	59	Identify the improper term..... अनुचित पद को पहचानिए। A1 : green pollution हरित प्रदूषण A2 : water pollution जल प्रदूषण A3 : air pollution वायु प्रदूषण A4 : sound pollution ध्वनि प्रदूषण	2.0	0.00
Employability Skills				
60	60	People from all religions or no religions are treated equally means..... सभी धर्मों या किसी भी धर्म के लोगों के साथ समान व्यवहार नहीं किया जाता हैसेक्युलर देश A1 : democratic जनतांत्रिक	2.0	0.00

		A2 religious : धार्मिक A3 non secular : गैर धर्मनिरपेक्ष A4 secular Country : धर्मनिरपेक्ष देश		
Employability Skills				
61	61 is major changes takes place in manufacturing. मैनुफैक्चरिंग में प्रमुख परिवर्तन होते हैं। A1 Green revolution : हरित क्रांति A2 Industry revolution : उद्योग क्रांति A3 Water revolution : जल क्रांति A4 Food revolution : खाद्य क्रांति	2.0	0.00
Employability Skills				
62	62	1st industrial revolution started in..... पहली औद्योगिक क्रांति की शुरुआत। A1 18th century : 18 वीं सदी A2 19th century : 19 वीं सदी A3 20th century : 20 वीं सदी A4 21st century : 21 वीं सदी	2.0	0.00
Employability Skills				
63	63	Hard Skill..... कठिन कौशल.....। A1 quick learner : त्वरित शिक्षार्थी A2 time management : समय प्रबंधन A3 60 WPM typing speed : 60 WPM टाइपिंग स्पीड A4 spoken English : मौखिक अंग्रेजी	2.0	0.00
Employability Skills				
64	64	To grow yourself you must..... अपने आप को विकसित करने के लिए आपको चाहिए। A1 know your office : अपने कार्यालय को जानें	2.0	0.00

		A2 : know yourself खुद को जानें A3 : know your institute अपने संस्थान को जानें A4 : know your country अपने देश को जानो		
Employability Skills				
65	65	Time management..... समय प्रबंधन.....। A1 : complete your task on time अपना कार्य समय पर पूरा करें A2 : managing time प्रबंधन समय A3 : hard skill कठिन कौशल A4 : problem solving समस्या को सुलझाना	2.0	0.00
Employability Skills				
66	66	A resume should be _____. एक रिज्यूम _____ होना चाहिए A1 : short and precise छोटा और सटीक A2 : fancy and colourful फैंसी और रंगीन A3 : having long and detailed information लंबी और विस्तृत जानकारी होना A4 : having acronyms and abbreviation समरूप और संक्षिप्त नाम होना	2.0	0.00
Employability Skills				
67	67	A written description of duties and responsibilities to be carried out in a job is called _____. किसी कार्य में किए जाने वाले कर्तव्यों और जिम्मेदारियों का लिखित विवरण _____ कहा जाता है A1 : CV CV A2 : job description नौकरी का विवरण A3 : resume रिज्यूम A4 : job application नौकरी के लिए आवेदन	2.0	0.00
Employability Skills				
68	68	After receiving interview call, what is the next step? साक्षात्कार कॉल प्राप्त करने के बाद, अगला कदम क्या है? A1 : Send application letter आवेदन पत्र भेजें	2.0	0.00

		A2 : Prepare the resume रिज्यूम तैयार करें A3 : Appear at interview साक्षात्कार में मैं जाये A4 : Send resume रिज्यूम भेजे		
Employability Skills				
69	69	Choose suitable "wh" word for the given sentence. "_____ animal do you like?" दिए गए वाक्य के लिए उपयुक्त "wh" शब्द चुनें। "_____ animal do you like?" A1 : Which Which A2 : Why Why A3 : Where Where A4 : When When	2.0	0.00
Employability Skills				
70	70	Choose the correct punctuation mark after the word "Rohan" in the given sentence. "Rohan David and Ram are playing hide and seek" दिए गए वाक्य में शब्द "रोहन" के बाद सही विराम चिह्न चुनें। "Rohan David and Ram are playing hide and seek" A1 : Comma (,) अल्पविराम (,) A2 : Period (.) अवधि (.) A3 : Slash (/) स्लैश (/) A4 : Hyphen (-) हाइफ़न (-)	2.0	0.00
Employability Skills				
71	71	Choose the correct response for the given question. "How have you been?" दिए गए प्रश्न के लिए सही उत्तर चुनिए। "How have you been?" A1 : Very well, And you? Very well, And you? A2 : Thank you_ And you? Thank you_ And you? A3 : Same to you Same to you A4 : On vacation_ And you? On vacation_ And you?	2.0	0.00
Employability Skills				
72	72	Choose the correct response of the given question. "When did the accident happen?" दिए गए प्रश्न की सही प्रतिक्रिया चुनें। "When did the accident happen?" A1 : in the hotel in the hotel	2.0	0.00

		<p>A2 during travelling : during travelling</p> <p>A3 At 10:30 last night : At 10:30 last night</p> <p>A4 On the table : On the table</p>		
Employability Skills				
73	73	<p>Choose the correct tense of the verb. "I _____ music when I was child"</p> <p>क्रिया का सही काल चुनें। "I _____ music when I was child"</p> <p>A1 learn : learn</p> <p>A2 am learning : am learning</p> <p>A3 will learn : will learn</p> <p>A4 learnt : learnt</p>	2.0	0.00
Employability Skills				
74	74	<p>Curriculum vitae is also known as _____.</p> <p>Curriculum vitae को _____ के रूप में भी जाना जाता है।</p> <p>A1 circular : परिपत्र</p> <p>A2 resume : रिज्यूम</p> <p>A3 job application form : नौकरी के लिए आवेदन पत्र</p> <p>A4 leave application : छुट्टी की अर्जी</p>	2.0	0.00
Employability Skills				
75	75	<p>Fill in the blank with comparative adjective. "Your pencil is _____ than mine"</p> <p>तुलनात्मक विशेषण के साथ रिक्त स्थान भरें। "Your pencil is _____ than mine"</p> <p>A1 sharp : sharp</p> <p>A2 sharper : sharper</p> <p>A3 blunt : blunt</p> <p>A4 thick : thick</p>	2.0	0.00

Solar Technician (Electrical) -1 year (Eng) SET 1

Question Number	Correct Alternative position
1	A1
2	A2
3	A3
4	A4
5	A3
6	A3
7	A2
8	A3
9	A3
10	A1
11	A1
12	A3
13	A2
14	A2
15	A2
16	A3
17	A1
18	A4
19	A4
20	A1
21	A2
22	A2
23	A2
24	A4
25	A1
26	A1
27	A2
28	A2
29	A3
30	A2
31	A3
32	A4
33	A1
34	A3
35	A1
36	A2
37	A3
38	A2
39	A3
40	A2
41	A2
42	A2
43	A2
44	A1
45	A1

46	A3
47	A2
48	A4
49	A3
50	A1
51	A1
52	A3
53	A2
54	A1
55	A2
56	A1
57	A2
58	A3
59	A1
60	A4
61	A2
62	A1
63	A3
64	A2
65	A1
66	A1
67	A2
68	A3
69	A1
70	A1
71	A1
72	A3
73	A4
74	A2
75	A2